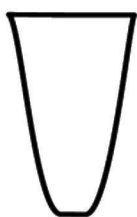
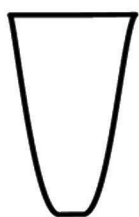
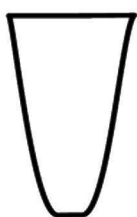


W każdym z czterech wazonów stały po trzy róże.
Domaluj kwiaty i policz, ile łącznie jest róż.



Zapisz działanie. $\square \cdot \square = \square$

W każdym z czterech wazonów stały po cztery róże.
Domaluj kwiaty i policz, ile łącznie jest róż.



Zapisz działanie. $\square \cdot \square = \square$